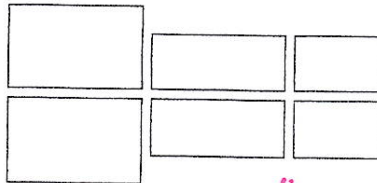
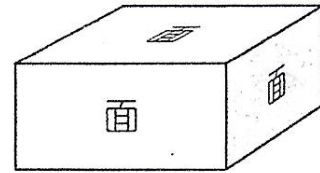
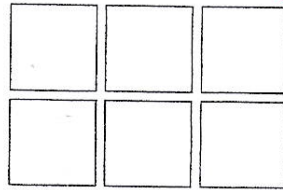


1 面の形や数をしらべましょう。

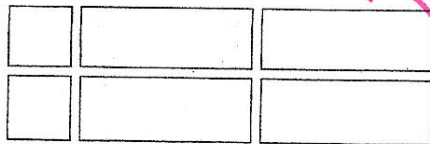
はこのたいらなところを<sup>めん</sup>面といいます。



・ 同じ形の長方形が2つずつ ←



・ 同じ形の正方形が6つ ←



・ 同じ形の正方形が2つ  
同じ形の長方形が4つ ←

はこの面は、  
**長方形** や  
**正方形** の  
形をしていて、  
ぜんぶで **6** つ  
あります。

2 ここには 同じ形の面がいくつずつありますか。

3 この形の<sup>へ</sup>辺や<sup>てん</sup>ちょう点についてしらべましょう。

はこの形には、辺が **12** ,  
ちょう点が **8** つ あります。

