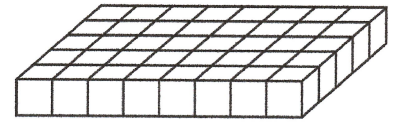


体積 [きほん]-1	名	組	番	得点
	前			/100点

内容 体積の単位と計算 / 直方体・立方体の体積の公式 / いろいろな形の体積

【配点】 1 10点×2, 2 10点×4, 3 20点×2

1 1辺が1cmの立方体の積み木を、右の図のようにならべ、これを7段重ねて直方体を作ります。



(1) 積み木はぜんぶで何個ありますか。

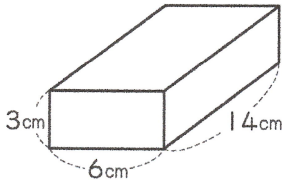
{ 280個 }

(2) できた直方体の体積は何 cm^3 ですか。

{ 280cm^3 }

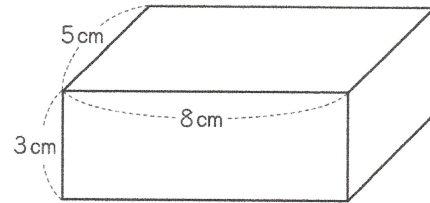
2 次の立体の体積を求めなさい。

(1)



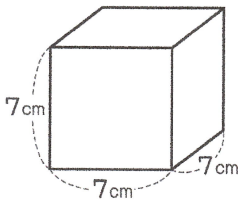
{ 252cm^3 }

(2)



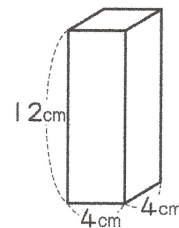
{ 120cm^3 }

(3)



{ 343cm^3 }

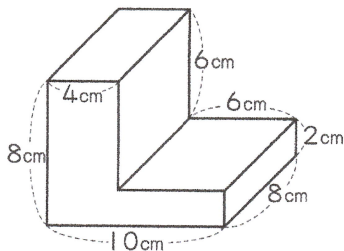
(4)



{ 192cm^3 }

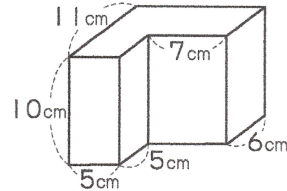
3 次の立体の体積を求めなさい。

(1)



{ 352cm^3 }

(2)



{ 970cm^3 }