

体積 [きほん]-1

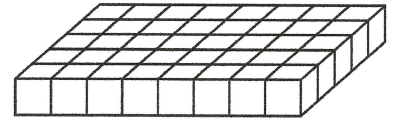
名前 _____ 組 _____ 番 _____ 得点 _____

/100点

内容 体積の単位と計算 / 直方体・立方体の体積の公式 / いろいろな形の体積

【配点】 1 10点×2, 2 10点×4, 3 20点×2

1 1辺が1 cmの立方体の積み木を、右の図のようにならべ、これを7段重ねて直方体を作ります。



(1) 積み木はぜんぶで何個ありますか。

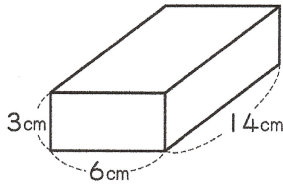
[_____]

(2) できた直方体の体積は何cm³ですか。

[_____]

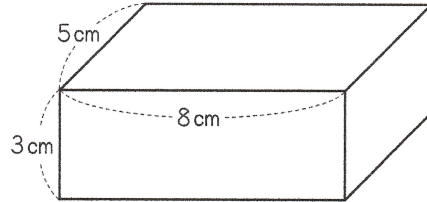
2 次の立体の体積を求めなさい。

(1)



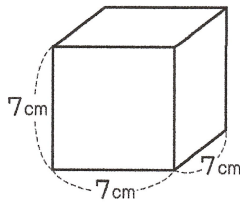
[_____]

(2)



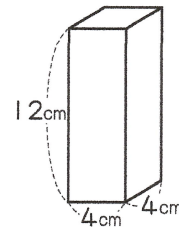
[_____]

(3)



[_____]

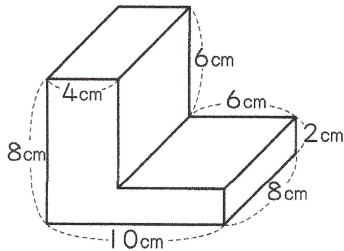
(4)



[_____]

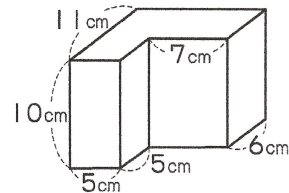
3 次の立体の体積を求めなさい。

(1)



[_____]

(2)



[_____]